

Ce que je sais déjà

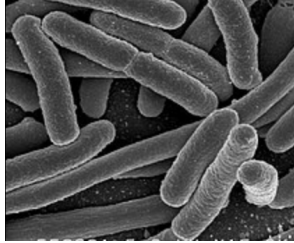
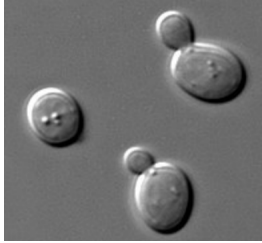
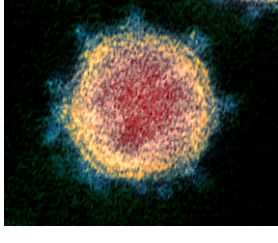
| | | | |
|--------------|---|--|---|
| photographie |  |  |  |
| nom | Escherichia Coli | Saccharomyces cerevisiae (levure) | SARS cov 2 |
| taille | 1 à 2 micromètre de long environ | 5 à 10 micromètres de diamètre environ | 0,06 micro mètre de diamètre environ |

Tableau présentant 3 micro-organismes.

Remarques :

- Un micromètre, c'est un millionième de mètre.
- le titre est volontairement omis
- les images viennent de Wikipedia

Complète le tableau suivant avec...ce que tu sais !

| Question | Réponse |
|--|---------|
| Ecris une définition de « micro-organisme » | |
| Cite un exemple de micro-organisme qui rend malade. | |
| Cite un exemple de micro-organisme étudié au collège qui n'est pas pathogène. Rajoute son rôle si tu le connais. | |
| Choisis la bonne proposition : 1- Les micro-organismes se trouvent partout 2- Les micro-organismes se trouvent uniquement dans l'intestin. | |
| Que sais-tu de E. coli ? | |

